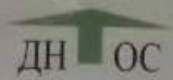




ТАКМИЧЕЊЕ УЧЕНИКА ОСНОВНИХ ШКОЛА РЕПУБЛИКЕ СРБИЈЕ
“ШТА ЗНАШ О САОБРАЋАЈУ”



ШК-РЕП-49



1. Возило за организовани превоз деце се зауставило, на путу са по једном саобраћајном траком по смеру, ради уласка и изласка деце из возила. У тој ситуацији возач белог путничког аутомобила:
- а) дужан је да се заустави док деца улазе и излазе из аутобуса
 - б) сме извршити обилажење аутобуса, али мора смањити брзину **3**
 - ц) сме извршити обилажење аутобуса, јер му то није забрањено ни саобраћајним знаком ни ознакама на коловозу



2. За време уласка и изласка деце из возила, возач тог возила:
- а) мора да укључи све показиваче правца **3**
 - б) мора да укључи све показиваче правца само ноћу
 - ц) није дужан да укључи све показиваче правца
3. Организована колона пешака која се креће путем у ситуацији на слици, то врши:
- а) прописно
 - б) непрописно **3**
 - ц) путем на којем је кретање пешака забрањено

4. Организована колона пешака не сме бити дужа од:
- а) 50 m
 - б) 80 m **3**
 - ц) 100 m



5. Трамвај, у ситуацији на слици, приликом скретања улево:
- а) мора да пропусти плави путнички аутомобил
 - б) мора да пропусти и плави и сиви путнички аутомобил **3**
 - ц) има првенство проласка кроз раскрсницу

6. У ситуацији на истој слици, сиви путнички аутомобил, врши скретање улево:
- а) непрописно, јер скретање треба да изврши крећући се по шинама
 - б) прописно из одговарајуће саобраћајне траке **3**
 - ц) непрописно, јер скретање треба да изврши из десне саобраћајне траке

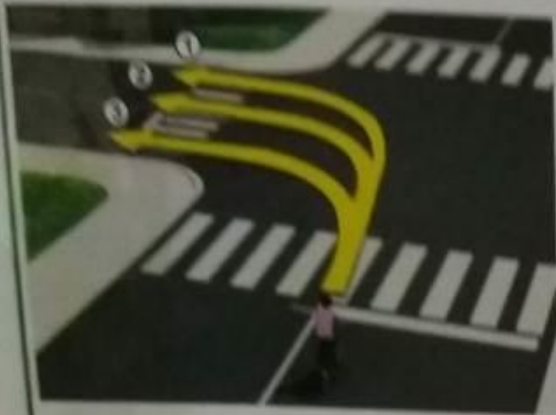

7. Возач је обавезан да се у зони успореног саобраћаја креће тако да не смета кретање пешака и бициклиста:
- а) брзином кретања пешака, не већом од 10км/ћ **3**
 - б) брзином која није већа од 30км/ћ
 - ц) брзином која је дозвољена у граду 50км/ћ

8. У саобраћају на путу, за време војње ноћу, на моторном возилу морају бити укључена:

а) светла за маглу

б) кратка светла

ц) дуга светла




9. Возач бицикле правилно скреће путањом:

а) 1

б) 2

ц) 3




10. Приликом престројавања улево, по редоследу, друга радња коју бициклиста врши је:

а) давање сигнала левом руком којим обавештава учеснике у саобраћају о својој намери

б) поглед преко левог рамена да се увери да је безбедно извршити престројавање

ц) окретање волана у жељеном смеру кретања




11. У ситуацији на слици плави путнички аутомобил, скретање улево врши:

а) прописно, у одговарајућу траку

б) непрописно, јер је дужан да скретање изврши у леву саобраћајну траку

ц) непрописно, на месту где му скретање улево није дозвољено



12. Знак који видимо на слици припада:

а) знаковима обавештења

б) знаковима изричитих наредби

ц) знаковима опасности



13. Првенство проласка кроз раскрсницу, у ситуацији коју видимо на слици, има:

а) плаво теретно возило

б) црвени аутомобил

ц) мотоцикл



14. У ситуацији приказаној на слици, поступање возача регулисано је:

а) саобраћајним знаком

б) допунском таблом

ц) светлосним саобраћајним знаком



15. Црвени путнички аутомобил, у ситуацији на слици:

а) има првенство проласка кроз раскрсницу

б) дужан је да пропусти само полицијски ауто

ц) дужан је да пропусти и полицијски ауто и зелени путнички аутомобил



16. Допунска табла испод саобраћајног знака, у ситуацији на истој слици, означава:

а) укретање главног и споредног пута

б) пружање пута са правом првенства пролаза

ц) спајање путева исте важности под правим углом





17. У ситуацији на слици, црвени путнички аутомобил полукружно окретање врши:
- а) прописно
- б) непрописно, јер му је то забрањено ознакама на коловозу 3
- ц) непрописно, на путу на којем му је то забрањено



18. Ако возач, деоницу пута са слике, у дужини од 200км, пређе за 130 минута, он се кретао:
- а) непрописно, брзином већом од дозвољене
- б) прописно, дозвољеном брзином 3
- ц) прописно, путем на којем брзина кретања није ограничена
19. Жути и бели путнички аутомобили у ситуацији на слици:
- а) имају првенство пролаза у односу на сва возила у раскрсници
- б) дужни су да пропусте само зелени и сиви путнички аутомобил 3
- ц) дужни су да пропусте и возило полиције, и зелени и сиви путнички аутомобил

20. За возила са првенством пролаза, одредбе закона о ограничењу брзине се:
- а) не примењују 3
- б) примењују само у насељу
- ц) примењују



21. Црвени путнички аутомобил, у ситуацији са слике:
- а) дужан је да пропусти сиви комби, који му долази са десне стране
- б) дужан је да пропусти сиви комби, јер се ради о возилу за јавни превоз путника 3
- ц) има првенство проласка у односу на сиви комби

22. На истој слици, бициклисти се крећу путем:
- а) непрописно 3
- б) прописно
- ц) на којем им је кретање забрањено



23. Знак који даје полицијски службеник приказан на слици, када се налази на коловозу, означава:
- а) обавезно заустављање за све возаче према којима је окренут длан и прса полицијског службеника
- б) забрану пролаза за све возаче, осим за возаче чија се возила у часу када полицијски службеник подигне руку, не могу на безбедан начин зауставити 4
- ц) да возила која полицијском службенику долазе са бочних страна имају право пролаза, а возила која му долазе из правца у коме су окренута леђа, односно прса морају да се зауставе

24. Звучне знаке пиштаљком који се дају у комбинацији са знацима који се дају рукама, полицијски службеник може давати:
- а) само кад се налази у возилу са видним обележјем полиције
- б) само кад се налази ван возила 3
- ц) и кад се налази ван возила и кад се налази у возилу са видним обележјем полиције

25.-26. У поља испод слике упиши бројеве који се налазе поред возила, по редоследу како пролазе раскрсницу:



2 7 8 6 5 3 4 1 5

3 4 6 5 1 2 5



27. Саобраћајни знак приказан на слици означава:
- а) близину прелаза пута преко железничке пруге у нивоу, који није обезбеђен браницима или полубраницима
 - б) место на којем се налази тремвајска станица 3
 - ц) близину места на коме пут прелази преко трамвајске пруге у нивоу ...



28. Брзина (у km/h) означена на знаку са слике је:
- а) највећа дозвољена брзина возила
 - б) препоручена брзина возила на одређеном делу пута 3
 - ц) најмања дозвољена брзина возила у нормалним условима саобраћаја



29. Саобраћајни знак приказан на слици означава:
- а) забрану ступања возила на уски део пута пре него што тим делом пређу возила из супротног смера
 - б) обавештење возачу да на уском пролазу има право првенства у односу на возила која долазе из супротног смера 3
 - ц) близину места на коме се прелази са дела пута на коме се саобраћај одвија само у једном смеру на део пута на коме се привремено или стално саобраћај врши у оба смера



30. Саобраћајни знак приказан на слици означава:
- а) близину укрштања путева од којих ниједан пут није пут са првенством пролаза
 - б) близину раскрснице на којој се пут са првенством пролаза укршта са споредним путем 3
 - ц) близину прелаза пута преко железничке пруге у нивоу који није обезбеђен браницима или полубраницима



31. Брзина означена на знаку са слике је:
- а) најмања дозвољена брзина приликом вожње у назначеним условима
 - б) препоручена брзина возила приликом вожње у назначеним условима 3
 - ц) највећа дозвољена брзина приликом вожње у назначеним условима

НАШИ ПРИЈАТЕЉИ!